


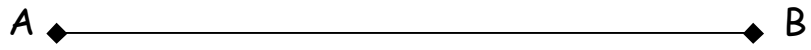



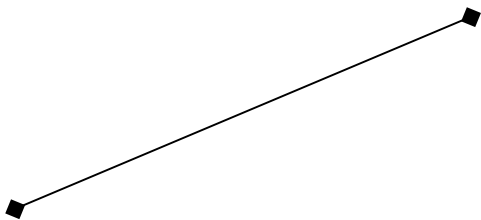
Géométrie	Distance	
-----------	----------	--

Place sur ces segments un point O équidistant à A et B



Géométrie	Distance	
-----------	----------	--

Trace au compas une droite perpendiculaire au milieu des segments.



Géométrie	Distance	
-----------	----------	--

Reporte au compas le petit segment sur chaque droite et marque combien de fois tu l'as reporté sur les pointillés

